

10をつくる計算



8+9

たす数9と1とをあわせると10です。

人さしゆび
親ゆび
人さしゆび

8+9のとき、
1をひきました。
つぎにどうすれば
よいでしょう。

★ 3+9, 6+9の計算のしかたを考えましょう。

★ 8+3の計算のしかたを考えましょう。

人さしゆび
親ゆび
人さしゆび

★ 4+8, 9+5, 90+50の計算のしかたを考えましょう。

(1) 4+7

9+2

70+80

63+50

19+26

85+41

チャレンジ

765+43

99+888

10からひく計算



11-8

10から8をひくと2です。

親ゆび

人さしゆび

? ★

11-8のとき、10をひきました。つぎにどうすればよいでしょう。

★ 12-8, 15-8の計算のしかたを考えましょう。

★ 11-4の計算のしかたを考えましょう。

親ゆび

人さしゆび

?

★ 13-9, 16-7, 160-70の計算のしかたを考えましょう。

(1) 15-6

13-5

110-20

164-90

41-27

62-53

チャレンジ


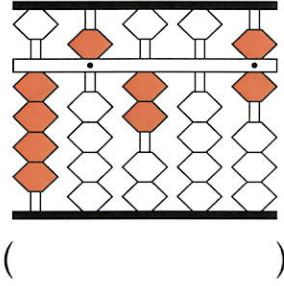
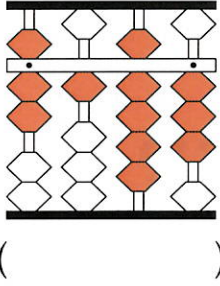
619-76

222-99

大きな数



(1) そろばんの数を数字で書きましょう。



(2) そろばんで計算しましょう。

$2648 + 5000$

$6\text{千} + 3\text{千}$

$9703 - 8000$

$4\text{千} - 2\text{千}$


$18059 + 70000$

$5\text{万} + 1\text{万}$

$34617 - 20000$

$7\text{万} - 6\text{万}$

8万+9万



たす数9万と
1万をあわせ
ると10万。



「10をつく
る計算」と
同じだね。

(3) そろばんで計算しましょう。

$7531 + 8000$

$9\text{千} + 2\text{千}$

$12609 - 4000$

$6\text{万} - 5\text{千}$

$97850 + 30000$

$4\text{万} + 7\text{万}$

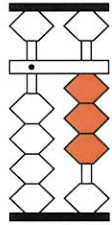
$150462 - 60000$

$30\text{万} - 1\text{万}$

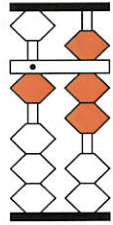
小数



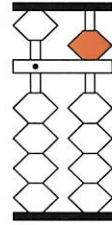
(1) 定位点^{でいいてん}は一の位^{くらい}です。そろばんの数を数字で書きましょう。



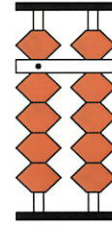
(0.3)



()



()



()

(2) そろばんで計算しましょう。

$0.7 + 0.2$

$0.1 + 0.5$

$1.3 + 0.6$

$2.5 + 7.2$


$0.4 - 0.3$

$0.8 - 0.6$

$5.9 - 0.7$

$4.7 - 2.5$

1.1 - 0.8



1から0.8をひくと0.2。



「10からひく計算」と同じだね。

(3) そろばんで計算しましょう。

$0.3 + 0.7$

$0.4 + 0.8$

$5.1 + 0.9$

$1.8 + 6.4$

$1 - 0.5$

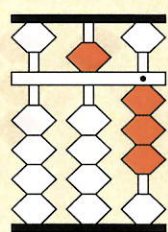
$1.2 - 0.3$

$8 - 2.6$

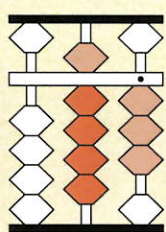
$7.3 - 5.9$

見えるおつり

★ $53+47$ の計算のしかたを考えましょう。



53



+40



+7

たす7に
3をあわせ
て10だけど



90+10は
?

(1) $32+68$

$29+71$

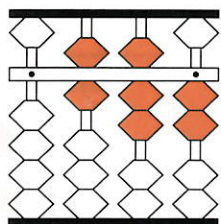
$735+265$

672円の買い物で、1000円はらうと、
おつりはいくらでしょう。

$1000-672$



そろばんなら
ひき算しなくても
わかるよ。



そろばんに672を表し、^{あらわ}いくらたすと1000になるかを考えます。

百の位に3、十の位に2、一の位にはくり上がるように8をたせば1000になります。それで、おつりは328円だと見るだけでわかります。

(2) 100円はらったときのおつりは、それぞれいくらでしょう。

84円 () 30円 () 95円 ()

(3) 1000円はらったときのおつりは、それぞれいくらでしょう。

756円 () 420円 () 199円 ()