


# たし方・ひき方

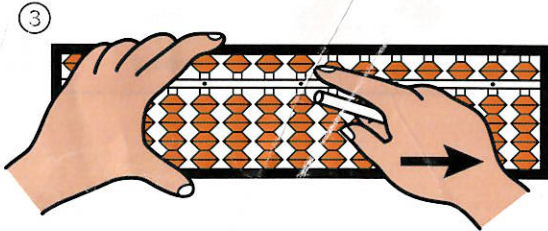


## 計算のようい

そろばんをかたむけると  
たまが下がります。



たまを下げた  
まま、そろばんを  
もとにもどします。


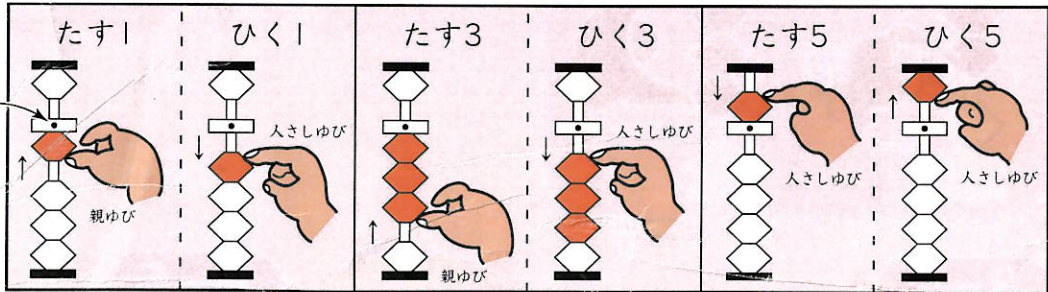


五だまは↑に、  
一だまは↓に。

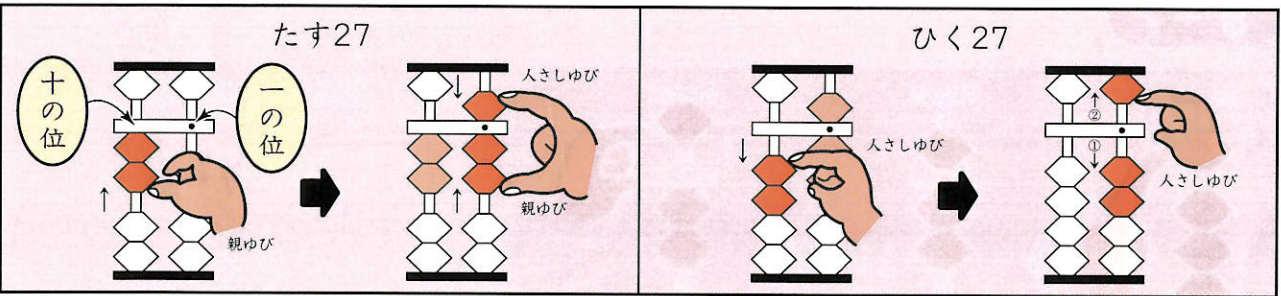
これで  
計算の  
よういが  
できました。

## 一だまと五だまのたし方・ひき方

いってん  
定位点の  
ところが  
一の位です。



(1) たす 2 と ひく 2, たす 4 と ひく 4, たす 7 と ひく 7, たす 9 と ひく 9 を しましよ。



(2) つぎの数をたして、ひきましよ。

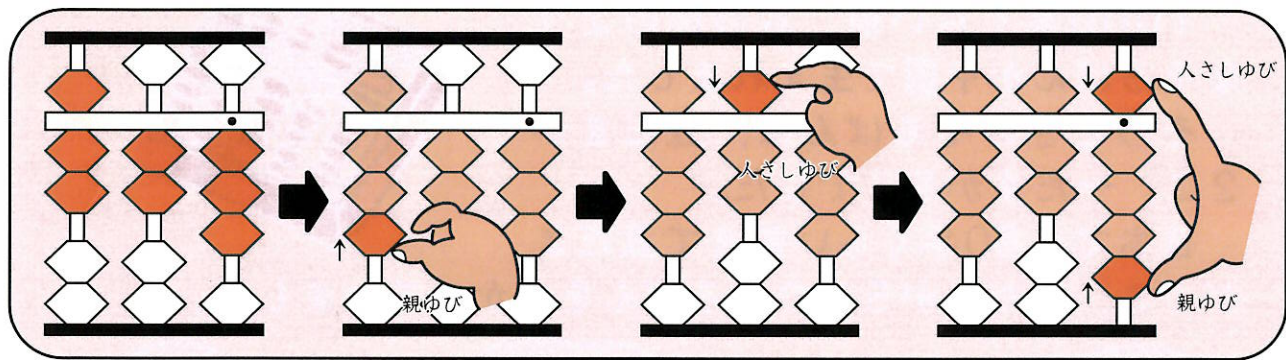
12      54      83      295      736      508



# やさしい計算



723 + 156



(1) 25 + 13

41 + 57

371 + 526

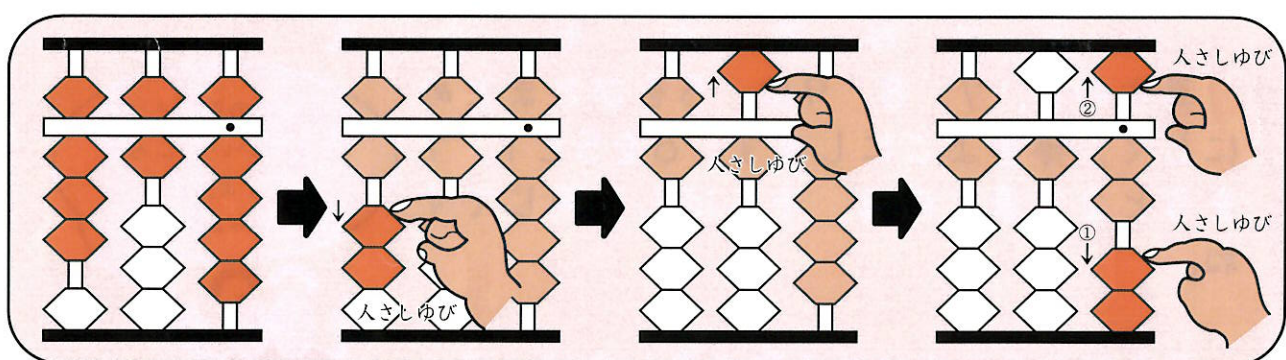
615 + 304

チャレンジ

1356 + 8520

7205 + 1683

869 - 257



(2) 89 - 24

73 - 51

478 - 352

947 - 630

チャレンジ


3649 - 2538

8384 - 7150

# 5をつくる計算・5からひく計算



451 + 237



(1) 31 + 35

12 + 64

462 + 136


503 + 162

チャレンジ

1234 + 3333

4444 + 4321

628 - 316



(2) 76 - 45

95 - 81

689 - 209

725 - 613

チャレンジ

7654 - 2222

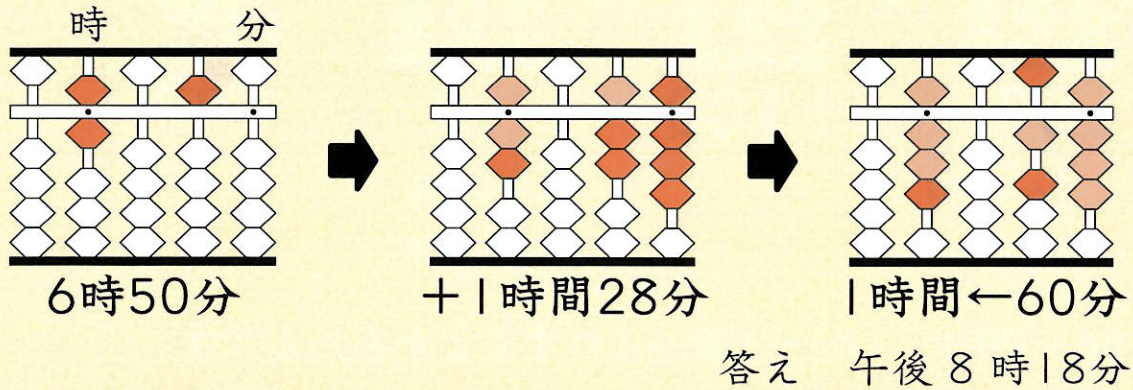
5555 - 4321



# 時ごとと時間

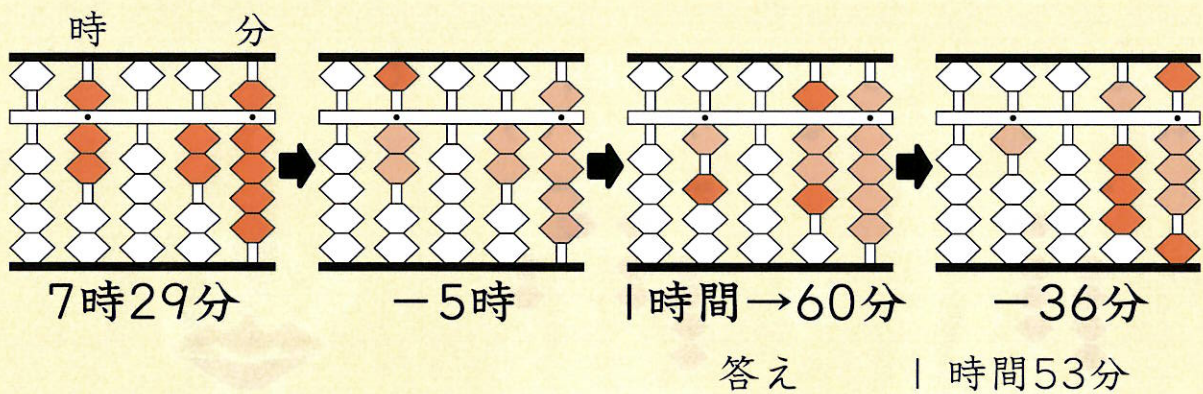
そろばんをつかって時ごとと時間をもとめましょう。

- ★ りょうさんは、1時間28分かかかるDVDを見ます。  
午後6時50分に見はじめると、見おわる時ごとは何時何分ですか。



- (1) A駅えきからB駅かんまでは、新幹線で2時間46分かかります。  
午前6時51分にA駅を出る新幹線にのると、B駅につく時ごとは何時何分ですか。( )

- ★ れいさんは、午後5時36分から午後7時29分まで勉強をしていました。勉強をしていた時間はどれだけですか。



- (2) みきさんは、野球やきゅうのしあいを見に行きました。しあいは、午後1時30分に始まり、午後4時21分に終わりました。しあいにかかった時間はどれだけですか。( )