

そろばん テスト




年 組 なまえ

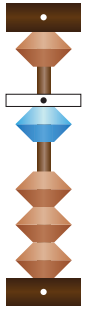
1

そろばんの 数を 数字で に かきましょう。

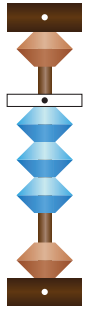
①



②



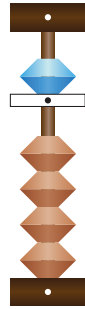
③



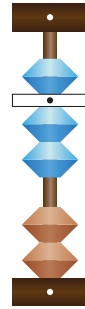
④



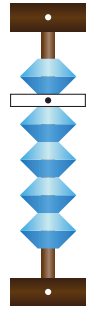
⑤



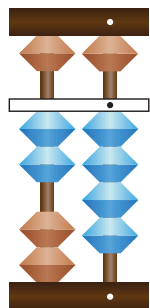
⑥



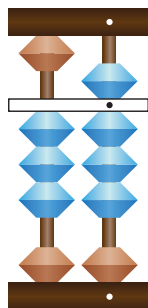
⑦



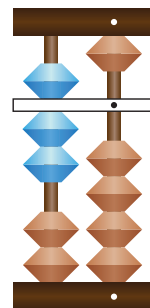
⑧



⑨



⑩



2

そろばんで 計算 しましょう。

①

$1 + 1 =$

②

$2 + 2 =$

③

$5 + 4 =$

④

$3 + 5 =$

⑤

$6 + 2 =$

⑥

$1 + 8 =$

⑦

$4 - 3 =$

⑧

$9 - 7 =$

⑨

$8 - 6 =$

⑩

$51 + 23 =$

⑪

$47 - 2 =$

⑫

$5 + 40 =$

3

つぎの 数を そろばんを つかって 数字で かきましょう。

① 百を 2こ, 一を 5こ あわせた 数

② 百を 7こ, 十を 3こ, 一を 6こ あわせた 数

4

つぎの もんだいを そろばんを つかって かんがえましょう。

① つくえの うえに くろエンピツが 15本, あかエンピツが 12本, あおエンピツが 11本 あります。あわせて なん本 でしょう。

本

② 2m87cmの ひもから 1m80cmを きりとりました。
のこった ひもの ^{なが}長さは 何m何cm でしょう。

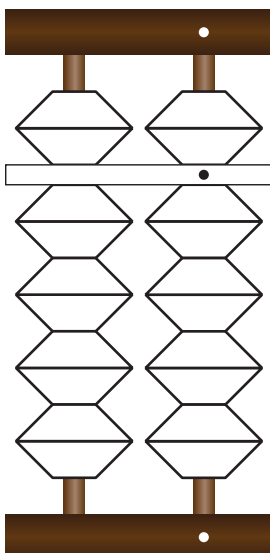
m

cm

5

そろばんの たまを 3こ つかって かんがえると いくつでしょう。

① そろばんの たまを 3こ
ぬって, 2けたの いちばん
大きな 数をつくりましょう。



② そろばんの たまを 3こ
ぬって, 2けたの いちばん
小さな 数をつくりましょう。

